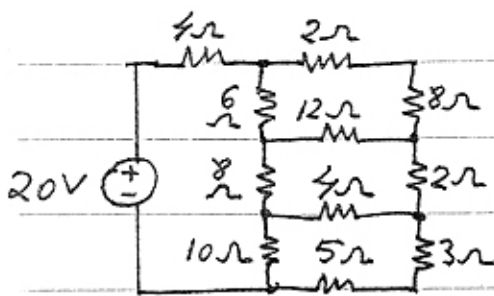
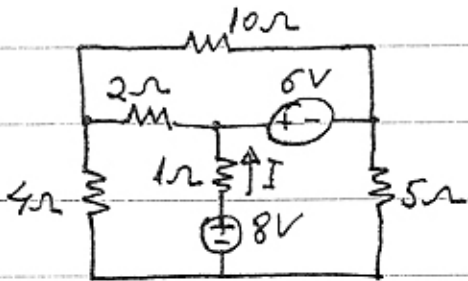


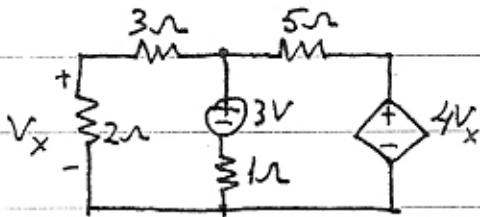
אגודת חשמל



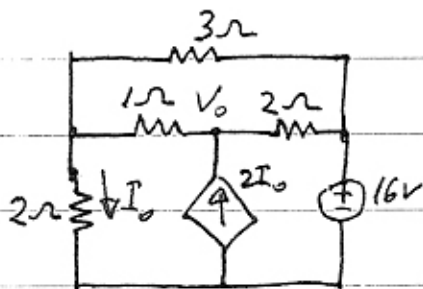
1. חשב את הזרם הזורם דרך ה- $12\Omega$  :  $I$



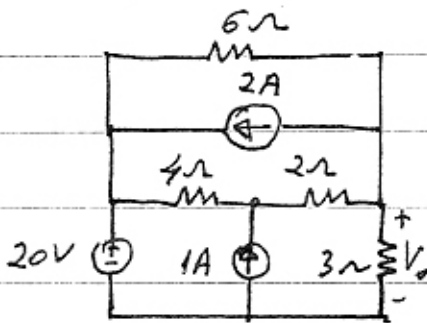
2. חשב את הזרם  $I$  הזורם דרך ה- $1\Omega$  :  $I$



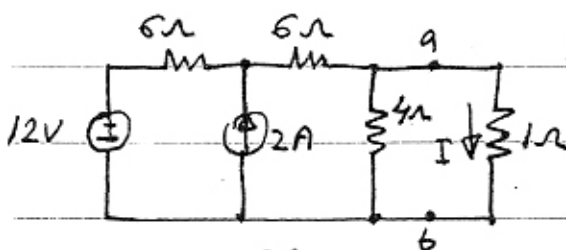
3. חשב את המתח  $V_x$  :  $V_x$



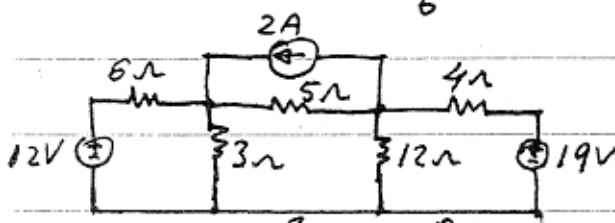
4. חשב את הזרם  $I_0$  ו- $V_0$  :  $I_0, V_0$



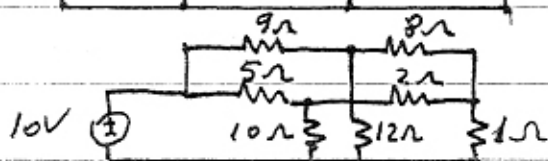
5. חשב את המתח  $V_0$  :  $V_0$



6. חשב את הזרם  $I$  הזורם דרך ה- $4\Omega$  :  $I$



7. חשב את המתח  $V_0$  :  $V_0$



8. חשב את הזרם הזורם דרך ה- $12\Omega$  :  $I$